





SOAL LATIHAN FINAL KST-6 2022 PPO JATENG ILMU PENGETAHUAN SOSIAL KELAS 9

1. Dalam menata stabilitas politik di Indonesia, pemerintah pada masa Orde Baru melakukan berbagai langkah. Berikut ini yang *bukan* bagian dari langkah pemerintahan Orde Baru tersebut adalah
 - A. melakukan pemulihan politik luar negeri Indonesia yang bebas aktif
 - B. melakukan pemulihan hubungan dengan Malaysia
 - C. turut memprakarsai penyelenggaraan Konferensi Asia Afrika
 - D. Indonesia kembali menjadi anggota Perserikatan Bangsa-Bangsa
2. Pada masa Orde Lama, bangsa Indonesia masih mencari bentuk demokrasi yang sesuai. Sistem demokrasi parlementer membawa akibat pemerintahan tidak dapat bertahan lama karena
 - A. melibatkan terlalu banyak partisan yang ada
 - B. adanya ketidaksepahaman dengan Presiden Soekarno
 - C. kekurangan dana operasional dalam pembangunan
 - D. sikap politik yang saling menjatuhkan
3. Di bawah ini yang *tidak termasuk* dalam penyimpangan-penyimpangan pada masa berlakunya demokrasi terpimpin adalah
 - A. prosedur pembentukan DPR-GR dan MPRS tidak melalui pemilu
 - B. terjadinya pembubaran DPR hasil pemilu oleh presiden
 - C. pengangkatan presiden seumur hidup
 - D. gagal menyusun undang-undang dasar yang baru
4. Pada masa Orde Baru penguasa dapat melakukan apapun yang diinginkannya karena mekanisme kontrol tidak berjalan. Salah satu sebab mekanisme kontrol tidak dapat berjalan adalah
 - A. tidak ada rakyat yang berani mengontrol pemerintah
 - B. Dewan Perwakilan Rakyat berjalan cukup efektif
 - C. adanya pengekanan terhadap media atau pers
 - D. Dewan Perwakilan Rakyat tidak terbentuk
5. Berikut ini adalah kronologi memburuknya situasi ekonomi Indonesia yang mendorong munculnya tuntutan reformasi oleh rakyat ...
 - A. naiknya harga minyak dunia yang mengakibatkan melambungnya harga bahan bakar di dalam negeri.
 - B. jatuhnya nilai tukar rupiah terhadap dolar Amerika diikuti melambungnya harga kebutuhan pokok.
 - C. meningkatnya harga bahan baku industri yang masih harus diimpor
 - D. terjadinya pemutusan hubungan kerja akibat kemunduran sektor industri





6. Upaya Presiden Soeharto mempertahankan eksistensi pemerintahan Orde Baru di tengah tuntutan reformasi oleh berbagai elemen masyarakat pada 1997-1998 diantaranya dilakukan dengan tindakan
 - A. menunjuk wakil presiden BJ Habibie sebagai pengganti Soeharto sebagai presiden
 - B. berusaha mengatasi krisis ekonomi yang terjadi sejak akhir 1997 dengan tindakan *sanering*
 - C. merombak kabinet pembangunan menjadi kabinet reformasi
 - D. mengundang para pimpinan mahasiswa dan tokoh nasional untuk membahas solusi krisis multidimensi di Indonesia
7. Kehidupan politik pada masa Orde Baru sama atau lebih buruk dari masa demokrasi terpimpin. Pada masa itu terjadi hal-hal dibawah ini, *kecuali* ...
 - A. pemusatan kekuasaan ditangan presiden
 - B. pemilu yang tidak demokratis
 - C. pemutusan hak di tangan rakyat
 - D. berkembangnya korupsi, kolusi dan nepotisme
8. Dalam demokrasi Pancasila, apabila pengambilan keputusan dengan jalan musyawarah atau mufakat tidak tercapai, langkah yang ditempuh adalah
 - A. keputusan diserahkan kepada pimpinan MPR
 - B. keputusan diserahkan kepada pimpinan sidang
 - C. rapat dinyatakan batal dan ditunda untuk waktu yang ditentukan kemudian
 - D. pemungutan suara terbanyak
9. Berikut ini yang merupakan salah satu perubahan ketatanegaraan pada pelaksanaan demokrasi kurun waktu 1945-1949 adalah
 - A. perubahan sistem presidensial menjadi kabinet parlementer
 - B. perubahan kabinet parlementer menjadi sistem presidensial
 - C. Indonesia pertama kali menjalankan pemilihan umum
 - D. sistem pemerintahan berdasarkan asas demokrasi terpimpin
10. Beralihnya Orde Baru menuju era Reformasi ditandai dengan adanya kebebasan dalam berbagai aspek. Berikut ini yang *bukan* contoh kebebasan yang dimaksud adalah
 - A. kebebasan berpendapat dan berpolitik
 - B. pembebasan narapidana yang ada
 - C. terselenggaranya pemilu yang demokratis
 - D. pelaksanaan otonomi daerah





11. Salah satu hal yang merugikan kehidupan bernegara pada masa demokrasi liberal adalah
 - A. terdapat toleransi yang tinggi antar umat beragama pada masa tersebut
 - B. kebebasan berpendapat termasuk kebebasan pers menurut liberalisme
 - C. badan kehakiman dapat mengadili para menteri
 - D. wakil rakyat di legislatif dapat menjatuhkan kabinet


12. Sistem demokrasi parlementer terlaksana di Indonesia dengan dasar
 - A. Konstitusi UUD 1945
 - B. Dekrit Presiden 5 Juli 1959
 - C. Konstitusi RIS dan UUDS 1950
 - D. Proklamasi 17 Agustus 1945

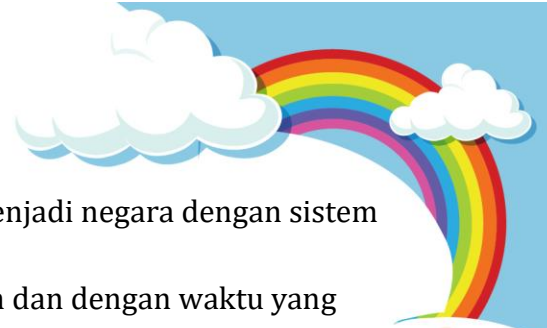
13. Pemilu di Indonesia merupakan perwujudan dari demokrasi Pancasila. Berikut ini yang merupakan alasan utama dari pernyataan tersebut adalah ...
 - A. semua warga negara Indonesia bisa ikut serta dalam pemilu tanpa kecuali
 - B. terpenuhinya hak asasi warga negara Indonesia
 - C. pemilu dilaksanakan setiap lima tahun sekali
 - D. dilaksanakan untuk mempertahankan kekuasaan yang ada

14. Globalisasi merupakan tantangan sekaligus peluang yang harus dihadapi setiap negara di dunia. Globalisasi akan menjadi peluang bagi negara yang ...
 - A. memiliki sumber daya alam yang melimpah dan bekerja sama untuk mengolah sumber daya alamnya
 - B. memiliki armada laut yang kuat dan persenjataan yang lengkap
 - C. mampu mengembangkan pemikiran kreatif untuk menghasilkan produk unggul
 - D. memiliki sumber daya manusia yang melimpah dan surplus tenaga kerja

15. Seiring terjadinya proses globalisasi, persepsi masyarakat tentang beberapa hal mengalami perubahan. Perubahan persepsi seseorang terhadap ruang dan waktu pada era globalisasi terjadi karena adanya
 - A. keinginan seseorang untuk melakukan perubahan
 - B. hubungan antar manusia yang makin intensif di era global
 - C. hubungan ekonomi yang semakin meluas
 - D. kemudahan akses komunikasi dan transportasi

16. Perubahan sosial di Eropa semakin berkembang sejak dilakukannya revolusi industri di negara Inggris, hal ini dikarenakan
 - A. adanya perubahan sosial yang cepat dan mendasar dalam berbagai sendi kehidupan
 - B. perubahan dari negara yang tadinya terjajah oleh negara lain menjadi negara merdeka





- C. adanya tingkatan atau stratifikasi karena Inggris menjadi negara dengan sistem monarki atau kerajaan
- D. adanya perubahan yang dilakukan bersifat perlahan dan dengan waktu yang cukup lama


17. Terjadinya perubahan dalam konsep ruang dan waktu karena perkembangan barang-barang seperti telepon genggam, internet akan memicu terjadinya
- A. teknologi global
 - B. komunikasi global
 - C. pergerakan massa
 - D. inflasi regional

18. Penerapan Buku Sekolah Elektronik dalam bidang pendidikan merupakan contoh dari perubahan sosial yaitu ...
- A. perubahan yang pengaruhnya besar
 - B. perubahan yang pengaruhnya kecil
 - C. perubahan secara cepat
 - D. perubahan yang direncanakan

19. Salah satu contoh positif pengaruh globalisasi terhadap kehidupan sehari-hari ialah ...
- A. meningkatnya unjuk rasa secara anarkis sebagai wujud ketidakpuasan
 - B. melemahnya penghargaan kaum muda terhadap kebudayaan sendiri
 - C. perilaku remaja yang cenderung memilih untuk makan fast food
 - D. meningkatnya kesadaran warga masyarakat terhadap kebudayaan sendiri

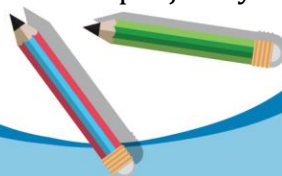
20. Paris merupakan kiblat fashion bagi negara-negara di dunia. Melalui media elektronika terutama teknologi internet, masyarakat dapat mengetahui mode pakaian yang saat ini sedang booming di Paris. Hal ini menunjukkan ciri-ciri globalisasi, yaitu ...
- A. terjadinya perubahan dalam konsep ruang dan waktu
 - B. peningkatan interaksi kultural melalui perkembangan media
 - C. perkembangan barang-barang elektronika yang tidak terkendali
 - D. terjadinya ketergantungan antara pasar dan kegiatan produksi negara-negara di dunia.

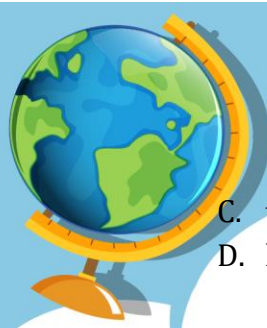
21. Pernyataan di bawah ini yang menunjukkan perlunya penyesuaian perilaku masyarakat dalam menyikapi perubahan adalah
- A. bergesernya mode angkutan massal busway
 - B. peningkatan fungsi pelayanan Kantor Pos
 - C. berkurangnya peminat angkutan umum ojek
 - D. menjamurnya ekspedisi ke luar negeri





22. Perubahan sosial budaya akibat Indonesia dikuasai Jepang terdapat di berbagai bidang salah satunya ialah bidang politik yang dicontohkan dengan
- A. sumber daya dan hasil-hasil pertanian dibawa untuk kepentingan perang Jepang.
 - B. tenaga kerja produktif yang ada di desa dipekerjakan pada beragam proyek.
 - C. Bahasa Indonesia pada saat itu semakin berkembang luas.
 - D. keterlibatan para pemimpin dalam berbagai organisasi
23. Dalam proses perubahan kebudayaan salah satunya adalah penetrasi yang dicontohkan dengan
- A. masyarakat tani yang berubah dari penggunaan tenaga manusia menjadi mesin
 - B. adanya proses percampuran kebudayaan tanpa menghilangkan budaya yang masih asli
 - C. masuknya unsur agama atau pemaksaan kebudayaan dari bangsa penjajah kepada yang dijajah.
 - D. masyarakat pedalaman yang memiliki sumber daya alam melimpah namun tidak dapat mengelolanya
24. Berikut ini yang *tidak termasuk* dalam faktor penghambat perubahan sosial budaya ialah ...
- A. kehidupan masyarakat yang terasing serta terisolasi
 - B. sikap masyarakat yang masih tradisional
 - C. perkembangan ilmu pengetahuan yang stagnan
 - D. keterbukaan masyarakat terhadap hal yang baru
25. Salah satu dampak globalisasi dalam lingkungan masyarakat adalah munculnya kesenjangan sosial. Kondisi tersebut merupakan kondisi yang
- A. mengindikasikan adanya kerja sama antarkelompok dalam masyarakat guna mencari pekerjaan yang dapat mensejahterakan mereka.
 - B. mengindikasikan adanya perbedaan jarak atau tingkatan dalam berbagai bidang kehidupan yang sangat jelas antara rakyat dan elite politik
 - C. merupakan aktivator munculnya krisis multidimensi dalam sebuah negara akibat dari proses globalisasi
 - D. menandakan sikap individualisme dari kelompok masyarakat tertentu dan mengacuhkan keberadaan kelompok masyarakat miskin
26. Aktivitas ekonomi didorong oleh adanya kelangkaan, akibat kebutuhan yang tidak terbatas sementara ketersediaan terbatas. Namun, terdapat beberapa jenis barang yang disebut sebagai barang bebas/gratis (free goods). Ciri-ciri barang bebas yang tepat adalah...
- A. tidak langka dan memiliki biaya peluang yang tinggi
 - B. langka tetapi dibagikan secara gratis oleh penjualnya





- C. tidak langka dan tidak bisa dimanfaatkan langsung
- D. langka tetapi bisa didapatkan dengan mudah karena banyak tersedia

27. Penyebab utamanya adanya banyak barang murah dari Tiongkok yang dijual di Indonesia adalah...

- A. Biaya kirim yang murah karena dekat
- B. Biaya produksi yang rendah
- C. Tidak adanya biaya pengiriman
- D. Tidak adanya tarif masuk impor

28. Pembangunan berkelanjutan bertujuan untuk memberikan lingkungan tempat hidup yang terjamin bagi generasi masa depan, sehingga aktivitas ekonomi masih dapat berjalan untuk generasi mendatang. Di antara aspek berikut ini, yang merupakan aspek utama yang harus diperhatikan dalam pembangunan berkelanjutan adalah...

- A. kebermanfaatan ekonomi, keadilan sosial, dan kelestarian lingkungan
- B. kebermanfaatan ekonomi, adaptasi teknologi, dan kesamaan hukum
- C. ramah lingkungan, keadilan hukum, dan kesetaraan gender
- D. keadilan sosial, kelestarian budaya, dan ramah lingkungan

29. Indonesia mengimpor mesin pesawat terbang dari Kanada karena Indonesia belum mampu memproduksinya. Hal ini menunjukkan faktor pendorong perdagangan antarnegara berupa...

- A. perbedaan tingkat harga
- B. perbedaan faktor produksi
- C. perbedaan ideologi
- D. perbedaan kondisi geografi

30. Inflasi terjadi apabila jumlah uang yang beredar terlalu banyak. Maka dari itu, solusi yang dapat dilakukan untuk menurunkan inflasi adalah...

- A. menaikkan nilai upah pekerja
- B. menurunkan nilai upah pekerja
- C. menurunkan suku bunga pinjaman
- D. menaikkan suku bunga pinjaman

