

Kobarkan Semangat,
Raih Prestasi, dalam Ajang
Kompetisi Sains Nasional

RAHASIA NEGARA

TINGKAT KABUPATEN/KOTA



SOAL
KOMPETISI SAINS NASIONAL SMP
TINGKAT KABUPATEN/KOTA
TAHUN 2020



Kompetisi
Sains
Nasional

BIDANG STUDI ILMU PENGETAHUAN SOSIAL

DIREKTORAT PEMBINAAN SEKOLAH MENENGAH PERTAMA
DIREKTORAT JENDERAL PENDIDIKAN DASAR DAN MENENGAH
KEMENTERIAN PENDIDIKAN DAN KEBUDAYAAN
TAHUN 2019



**SOAL
KOMPETISI SAINS NASIONAL (KSN) SMP
TINGKAT KABUPATEN/KOTA
TAHUN 2020**

BIDANG STUDI ILMU PENGETAHUAN SOSIAL

**KEMENTERIAN PENDIDIKAN DAN KEBUDAYAAN
DIREKTORAT JENDERAL PENDIDIKAN DASAR DAN MENENGAH
DIREKTORAT PEMBINAAN SEKOLAH MENENGAH PERTAMA
TAHUN 2020**

PETUNJUK UMUM

1. Soal terdiri dari 60 butir soal Pilihan Jamak
2. Jawablah setiap soal pada lembar jawaban yang telah disediakan!
3. Pilihlah salah satu jawaban yang paling tepat dengan memberi tanda silang (X) pada huruf A, B, C atau D.
4. Bila ingin mengganti jawaban, berilah tanda dua garis datar pada jawaban yang dianggap salah dan berilah tanda silang (X) pada jawaban pengganti.
Contoh: 1. ~~A~~ B ~~C~~ D
5. Lembar jawaban harus diisi dengan menggunakan ballpoint/tinta, tidak boleh menggunakan pensil.
6. Soal pilihan jamak, apabila menjawab dengan benar akan mendapatkan poin 2 (dua), sedangkan jawaban salah akan mendapatkan poin -1 (minus satu) dan jawaban yang kosong mendapatkan poin 0 (nol)
7. Selama mengerjakan soal tidak diperbolehkan menggunakan kalkulator dan atau alat hitung lainnya.
8. Waktu yang disediakan untuk mengerjakan soal adalah 120 menit
9. Periksa kembali lembar jawaban yang telah Anda isi sebelum diserahkan kepada juri atau pengawas.

1. Flora Hutan Hujan Tropis di Wilayah Peralihan yang dominan tumbuh adalah famili ...
 - A. *Araucariaceae*, *Dipterocarpaceae*, dan *Myrtaceae*
 - B. *Dipterocarpaceae*, *Myrtaceae*, dan *Verbenaceae*
 - C. *Araucariaceae*, *Dipterocarpaceae* dan *Verbenaceae*
 - D. *Araucariaceae*, *Myrtaceae*, dan *Verbenaceae*

2. Cermati pernyataan berikut :
 - 1) Diapit oleh dua samudera;
 - 2) Peringkat ke 3 dunia dalam produksi perikanan;
 - 3) Berbentuk kepulauan dan memiliki sejumlah 17.504 pulau;
 - 4) Sebagian besar jumlah penduduknya bermata pencaharian sebagai nelayan;
 - 5) memiliki 2/3 teritorial laut dari luas wilayahnya dan panjang garis pantai \pm 18.000 km;

Berdasarkan pernyataan di atas, Indonesia disebut sebagai negara maritim karena faktor ...

 - A. 1, 2, 3, dan 4
 - B. 1, 2, 3, dan 5
 - C. 1, 2, 4, dan 5
 - D. 2, 3, 4, dan 5

3. Udara sebagai sumber daya alam yang diimplementasikan dalam bentuk Pembangkit Listrik Tenaga Bayu memiliki keunggulan berikut ini, kecuali ...
 - A. Udara tidak akan habis terpakai
 - B. Tidak menghasilkan emisi gas buang
 - C. Dapat dibangun di semua daerah
 - D. Lahan ladang angin dapat digunakan untuk keperluan lain

4. Hutan sebagai sumber daya alam mempunyai banyak potensi di antaranya fungsi - fungsi sebagai berikut
 - A. Hidrologis, ekologis, klimatologis, ekonomis
 - B. geografis, ekologis, sosial, ekonomis
 - C. geografis, medisi, klimatologis, ekonomis
 - D. Hidrologis, estetis, klimatologis, sosial

5. Batubara sebagai sumber daya tambang terbentuk dalam ratusan juta tahun yang lalu dengan tahapan mulai dari tumbuhan rawa yang mati sampai secara berturut-turut terbentuknya ...
 - A. Gambut, Lignit, Bituminus, dan Antrasit
 - B. Lignit, Bituminus, Antrasit, dan Gambut
 - C. Gambut, Bituminus, Lignit, dan Antrasit
 - D. Gambut, Antrasit, Bituminus, dan Lignit

6. Letak geostrategis Indonesia dapat mempengaruhi penduduk dalam aspek sosial, ekonomi dan budaya. Manakah yang merupakan dampak negatif dari letak geostrategis terhadap budaya Indonesia?
 - A. Terjadinya proses akulturasi budaya baru
 - B. Adanya asimilasi budaya lokal dan budaya luar
 - C. Munculnya budaya baru hasil serapan budaya luar
 - D. Penguasaan bahasa asing daripada bahasa lokal

7. Beberapa dampak yang berkaitan dengan kejadian cuaca dan iklim
 - 1) Meningkatnya curah hujan dimusim penghujan
 - 2) Berkurangnya curah hujan di musim penghujan
 - 3) Meningkatnya curah hujan di musim kemarau
 - 4) Berkurangnya curah hujan di musim kemarau

Pemanasan global dengan kenaikan suhu $0,4^{\circ}$ - $0,8^{\circ}$ C dalam 100 tahun terakhir dapat menimbulkan perubahan cuaca dan iklim. Pernyataan yang benar dari dampak dari pemanasan global ditunjukkan nomor.....

 - A. 1 dan 2
 - B. 1 dan 3
 - C. 1 dan 4
 - D. 2 dan 4

8. Jarak dua kota A dan B disebuah peta 2^0 , jika keliling bumi diekuator 40.075,16 km. Berapakah jarak sebenarnya Kota A dan B tersebut....
- 111,21 km
 - 222,63 km
 - 333,93 km
 - 20.035,8 km
9. Indonesia memiliki kekayaan barang tambang. Barang tambang yang digunakan sebagai bahan baku kosmetik dan pasta gigi, memiliki sifatnya yang halus, putih kuat serta daya hantar listrik yang rendah yaitu.....
- Kaolin
 - Fosfor
 - Zeolite
 - Gypsum
10. Bentuk adaptasi rumah di Indonesia sesuai dengan kondisi alam:
- Menggunakan sistem *knockdown*
 - Atap bale lumbung
 - Rumah panggung
 - Menggunakan pasak
- Indonesia berada pada jalur pegunungan aktif yang rentan bencana gempa bumi. Beberapa rumah adat Indonesia memiliki struktur tahan gempa. Bentuk adaptasi rumah Indonesia yang tahan gempa ditunjukkan nomor....
- 1, 2 dan 3
 - 1, 2 dan 4
 - 1, 3 dan 4
 - 2, 3 dan 4
11. Faktor utama yang mempengaruhi kondisi iklim di Indonesia adalah ...
- Curah hujan
 - Suhu udara
 - Arah angin musim
 - Letak geografis
12. Hewan khas yang mendiami wilayah Wallacea adalah ...
- Gajah dan harimau
 - Badak dan banteng
 - Babi rusa dan anoa
 - Babi rusa dan tarsius
13. Indonesia adalah Negara kepulauan yang dilalui oleh tiga lempeng tektonik aktif yaitu lempeng Eurasia, Hindia Australia, dan Pasifik sehingga mempunyai resiko bencana alam yang sangat besar terutama gempa bumi tektonik dan tsunami. Yang merupakan wilayah pertemuan ketiga lempeng tersebut adalah
- Kepulauan Riau
 - Kepulauan Bangka Belitung
 - Kepulauan Banda
 - Kepulauan Natuna
14. Sumber energi ramah lingkungan yang banyak dijumpai di Indonesia adalah ...
- Nuklir, biomassa, air hujan, air terjun
 - Gas alam, biodiesel, angin, batu bara
 - Matahari, angin, ombak, hidrokarbon
 - Geothermal, air terjun, ombak, biomassa
15. Sebagai salah satu ekosistem laut, mangrove merupakan salah satu potensi sumberdaya laut yang berfungsi biologi yaitu ...
- Mengurangi abrasi air laut
 - Penyerap karbondioksida
 - Sebagai habitat alami biota darat dan biota laut
 - Menahan sedimen secara periodic
16. Ati sebagai pengusaha batik memanfaatkan pasar untuk membeli bahan baku batik dan menjual hasil karyanya. Dalam konteks ini peran utama lembaga ekonomi adalah ...
- memenuhi kebutuhan pokok untuk kelangsungan hidup masyarakat
 - meningkatkan kualitas kehidupan masyarakat menjadi lebih baik
 - memberikan pedoman keamanan dan kenyamanan masyarakat dalam bekerja
 - menentukan pemberian modal kepada masyarakat yang membutuhkan

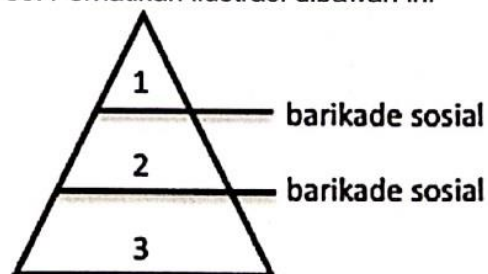
17. Pada saat perayaan hari raya beragama, semua umat beragama berduyun-duyun mendatangi tempat ibadahnya. Mereka berkumpul di satu tempat yang sama tanpa membedakan asal daerah dan suku bangsa. Hal ini merupakan fungsi laten dari lembaga agama yaitu
- menentukan sifat hubungan antar manusia dengan Tuhan dan sesamanya
 - menjadi wahana silaturahmi yang menumbuhkan rasa kekeluargaan
 - sebagai pedoman manusia dalam berperilaku antar umat beragama
 - meningkatkan integritas masyarakat baik tingkat mikro maupun makro
18. Banyaknya berita *hoaks*, pencemaran nama baik, dan perundungan (*bullying*) yang terjadi di media sosial mendorong pemerintah mengeluarkan UU Informasi dan Transaksi Elektronik (UU ITE). Hal ini merupakan bentuk akomodasi yang disebut
- arbitrasi
 - mediasi
 - koersif
 - ajudikasi
19. Pada saat di kelas 7, Ali adalah siswa pandai dan rajin masuk sekolah. Namun saat berada di kelas 8, Ali berada satu kelas dengan Andi yang terkenal sebagai siswa yang suka membolos. Akhirnya, Ali mengikuti jejak Andi. Dari cerita tersebut, yang menjadi penyebab terjadinya penyimpangan sosial karena
- proses *labelling*
 - differential association*
 - rebellion* (pemberontakan)
 - konformitas
20. Suku bangsa yang menolak pengaruh dari luar sehingga masyarakatnya terisolasi dari masyarakat yang lain dapat menyebabkan terhambatnya mobilitas sosial. Hal ini karena adanya
- perbedaan suku bangsa
 - diskriminasi kelas sosial
 - sosialisasi yang sangat kuat
 - kesenjangan sosial ekonomi
21. Agar kehidupan bermasyarakat berjalan tertib dan tertata dengan baik, maka diperlukan mekanisme yang terstruktur, yang disebut sebagai
- Sanksi sosial
 - Lembaga sosial
 - Aturan sosial
 - Norma sosial
22. Sebagai bagian dari sejarah pemerintahan di Indonesia, Orde Baru sering diidentikan dengan pemerintahan yang korupsi, kolusi dan nepotisme (KKN). Tetapi, Orde Baru juga diakui dunia berhasil dalam meningkatkan kualitas penduduk Indonesia. Keberhasilan tersebut antara lain
- Bertambahnya pengusaha kecil dan menengah
 - Semakin majunya industri otomotif
 - Bertambah luasnya lapangan pekerjaan
 - Semakin membaiknya tingkat pendidikan
23. Bu Maria Tampubolon menjadi Guru sejak lulus Sarjana Pendidikan di Sumatera Barat. Dia mengajar di SMP Negeri Halmahera Utara yang memiliki tatanan dan norma yang berbeda dengan daerah asalnya. Hal ini menunjukkan bahwa Bu Maria menjalankan peran pada lembaga...
- pendidikan dan hukum
 - agama dan sosial
 - budaya dan politik
 - budaya dan pendidikan
24. Akibat bergaul dengan teman yang sering melakukan perbuatan melawan hukum, Diko ikut-ikutan mulai berani melanggar aturan. Hal ini menunjukkan jenis penyimpangan sosial... .
- primer
 - sekunder
 - individu
 - kelompok

25. Mbok Darmi dipercaya Pak Dawud untuk menjajakan ikan hasil tangkapannya dengan cara dibayar di belakang hari setelah ikan tersebut terjual. Peristiwa ini menunjukkan bentuk interaksi
- Manusia dengan lingkungan kebudayaan
 - Manusia dengan lingkungan sosial
 - Manusia dengan lingkungan ekonomi
 - Manusia dengan lingkungan alam
26. Catur warga adalah istilah yang digunakan untuk keluarga beranggotakan ayah, ibu, dan dua orang anak. Ayah berperan sebagai pencari nafkah, sementara ibu sebagai pengasuh kedua anaknya. Namun, kini banyak ibu yang juga ikut mencari nafkah dengan bekerja di perkantoran. Wacana tersebut menunjukkan telah terjadi ... didalam keluarga
- pergeseran peran gender
 - domestifikasi peran perempuan
 - ayah bukan lagi kepala keluarga
 - pendidikan anak tidak terurus
27. Salah satu desa di kawasan Jawa Barat bekerjasama dengan perusahaan mengembangkan taman wisata serta museum tambang sebagai sarana edukasi. Warga juga diajak mengikuti pelatihan agar dapat aktif dalam pengembangan pariwisata di desanya. Lembaga sosial apa yang paling tepat sebagai fasilitatornya?
- badan usaha dan perseroan
 - kelurahan dan komunitas penggerak pariwisata
 - karang taruna dan perseroan
 - komunitas penggerak pariwisata dan badan usaha
28. Tingginya angka kekerasan yang dialami oleh perempuan membuat pemerintah mendirikan lembaga negara yang didedikasikan khusus untuk memberdayakan perempuan, yaitu Komisi Nasional Perempuan (Komnas Perempuan). Kehadiran Komnas Perempuan menyiratkan upaya ... dalam mengarusutamakan ... perempuan.
- gerakan sosial ; supremasi
 - lembaga hukum ; pemberdayaan

- masyarakat sipil ; kemandirian
- lembaga politik ; emansipasi

29. Sebagian wilayah Taman Nasional Gunung Rinjani dikelola menjadi tujuan wisata. Salah satu atraksi wisata yang dikembangkan disana adalah *tracking*, dimana pengunjung dapat menikmati keindahan alam dengan menyusuri jalur yang telah disiapkan. Masyarakat setempat memanfaatkan kehadiran atraksi wisata ini sebagai sumber matapencarian, diantaranya adalah pemandu, pengangkut perlengkapan kemah wisatawan, menjajakan makanan dan oleh-oleh, serta menyediakan penginapan. Agar masyarakat lokal dan pengelola objek wisata dapat saling berkontribusi untuk kemajuan yang berkelanjutan, maka pendekatan kerjasama yang lebih tepat adalah
- Akomodasi
 - Asosiasi
 - Akulturasi
 - Asimilasi

30. Perhatikan ilustrasi dibawah ini



Dalam sebuah ilustrasi piramida sosial, setiap lapisan strata dapat diklasifikasikan berdasarkan tingkat status sosial dan ekonomi. Contoh barikade sosial yang menjadi pembeda dari lapisan sosial adalah ...

- Penghasilan, suku bangsa, usia
- Usia, pendidikan, suku bangsa
- Pekerjaan, pendidikan, usia
- Pendidikan, pekerjaan, penghasilan

31. Keseluruhan bahasa yang digunakan oleh suku-suku asli Indonesia berasal dari rumpun Austronesia. Berdasarkan pendekatan dengan aspek bahasa tersebut, asal-usul suatu bangsa Indonesia dapat diketahui dari

- 1) nenek moyang bangsa Indonesia berasal dari Taiwan
- 2) migrasi bangsa Austronesia disebabkan bencana alam
- 3) persebaran bangsa Austronesia hingga wilayah Pasifik
- 4) kepulauan Formosa merupakan bagian dari Indonesia

A. 1, 2, 3
B. 1, 3
C. 2, 4
D. 4

32. Nenek moyang bangsa Indonesia berasal dari Afrika karena keduanya memiliki kesamaan DNA. Peninggalan peralatan manusia masa pra aksara di wilayah Indonesia menjadi tanda bukti dari jalur persebaran bangsa Afrika adalah:

- 1) Kjekkenmoddinger di Sumatera
 - 2) Cabbenge di Flores
 - 3) Kapak Genggam di Kalimantan
 - 4) Abris Sous Roche di Sulawesi
- Pernyataan yang benar ditunjukkan oleh nomor

A. 1, 2, 3
B. 1, 3
C. 2, 4
D. 4

33. Daerah-daerah berikut adalah jalur yang dilalui oleh nenek moyang bangsa Indonesia.

- 1) Lembah Sungai Nil
- 2) Semenanjung Sinai
- 3) Semenanjung Arab
- 4) Semenanjung Delmarva

Pernyataan yang benar ditunjukkan oleh nomor

A. 1, 2, 3
B. 1, 3
C. 2, 4
D. 4

34. Pada abad ke 14 Masehi, Kedatangan Islam telah sampai ke belahan timur Nusantara.

- 1) eksplorasi daerah baru
- 2) kegiatan penaklukan
- 3) ekspansi wilayah
- 4) kegiatan perdagangan

Faktor yang mendorong kedatangan Islam di wilayah Maluku ditunjukkan oleh nomor

A. 1, 2, 3
B. 1, 3
C. 2, 4
D. 4

35. Zaman Perundagian menunjukkan adanya perkembangan manusia purba dalam membuat benda-benda dengan bahan perunggu dan besi. Mereka berhasil menciptakan teknik cetakan yaitu teknik *bivalve* dan teknik *a cire perdue*. Berikut beberapa teknik pengolahan logam:

- 1) membuat model cetakan atau model benda dengan lilin atau bahan sejenis
- 2) membungkus benda yang akan dicetak dengan cara melapisi tanah liat
- 3) rongga bekas lilin kemudian diisi dengan cairan perunggu hingga penuh
- 4) cetakan dilepas setelah cairan perunggu dingin dan dapat digunakan kembali

Pernyataan diatas yang menunjukan langkah-langkah yang ditempuh dalam menghasilkan benda-benda berbahan logam menggunakan teknik *a cire perdue* diantaranya nomor

A. 1, 2, 3
B. 1, 3
C. 2, 4
D. 4

36. Republik Indonesia Serikat (RIS)—negara hasil persetujuan Konferensi Meja Bundar, dibentuk 27 Desember 1949, beranggotakan sejumlah negara federal seperti Negara Indonesia Timur, Negara Jawa Timur dan Negara Republik Indonesia—akhirnya bubar pada 17 Agustus 1950. Mengapa RIS bubar?

- 1) karena lemahnya dukungan rakyat di negara-negara bagian kecuali RI
- 2) karena kecerdikan diplomasi para tokoh pejuang Republik Indonesia
- 3) karena kuatnya daya tarik Republik Indonesia sebagai negara kesatuan
- 4) karena kegagalan Belanda mengirimkan bantuan ekonomi untuk menopang RIS

Jawaban yang benar ditunjukkan oleh nomor....

- A. 1, 2, 3
- B. 1, 3
- C. 2, 4
- D. 4

37. Perhatikan pernyataan berikut!

- 1) negara penyumbang lebih dari 35% Produk Domestik Bruto ASEAN
- 2) negara paling kompetitif yang memiliki stabilitas ekonomi makro ASEAN
- 3) negara terbesar dengan lebih dari 40 persen populasi ASEAN
- 4) negara paling tinggi dalam daya saing teknologi digital di ASEAN

Asosiasi Bangsa-Bangsa Asia Tenggara (ASEAN) didirikan pada tahun 1967 memiliki anggota sepuluh negara termasuk Indonesia. Pernyataan diatas yang menggambarkan kondisi Indonesia ditunjukkan oleh nomor ...

- A. 1, 2, 3
- B. 1, 3
- C. 2, 4
- D. 4

38. Perusahaan Belanda yang dinasionalisasi oleh pemerintah Indonesia tahun 1957/1958 antara lain:

- 1) perusahaan perkebunan
- 2) perbankan
- 3) perusahaan transportasi
- 4) perusahaan garmen/pakaian

Pernyataan yang tepat ditunjukkan oleh nomor...

- A. 1, 2, 3
- B. 1, 3
- C. 2, 4
- D. 4

39. Proklamasi kemerdekaan Indonesia 17 Agustus 1945 merupakan peristiwa sejarah yang penuh dinamika dengan dengan perbedaan-perbedaan dari golongan tua maupun golongan muda. Beberapa perbedaan itu diantaranya:

- 1) Sukarno berpendirian agar proklamasi dilaksanakan melalui Panitia Persiapan Kemerdekaan Indonesia (PPKI).
- 2) menyebarnya kekalahan Jepang di Perang Pasifik menjadi salah satu dorongan pemuda untuk segera dilaksanakan proklamasi.
- 3) pemuda yang berkumpul di Menteng 31 Jakarta mendengar kabar kekalahan Jepang dari Adam Malik yang bekerja di kantor Berita Dome.
- 4) Sutan Sjahrir mendesak kepada Hatta agar proklamasi diserahkan ke Panitia Persiapan Kemerdekaan Indonesia (PPKI).

Pernyataan yang tepat mengenai peristiwa sekitar proklamasi adalah nomor ...

- A. 1, 2, 3
- B. 1, 3
- C. 2, 4
- D. 4

40. Mengapa pemerintah Orde Baru memprioritaskan stabilitas politik?

- 1) untuk membungkam lawan-lawan politiknya
- 2) untuk mengurangi pergantian pemerintahan seperti jaman Orde Lama
- 3) untuk meningkatkan efektivitas pemerintahan
- 4) untuk menjamin pelaksanaan program-program pembangunan

Pernyataan yang tepat ditunjukkan oleh nomor...

- A. 1, 2, 3
- B. 1, 3
- C. 2, 4
- D. 4

41. Pernyataan berikut yang menggambarkan kepulauan Indonesia sebagai jalur perlintasan samudera membawa berbagai dampak, di antaranya

- 1) penghasilan Indonesia dari laut besar karena pungutan biaya ijin melintas kapal asing
- 2) Indonesia memiliki keragaman identitas budaya karena pengaruh berbagai bangsa
- 3) seluruh penduduk Indonesia memiliki kemampuan berlayar karena tuntutan alam
- 4) klaim atas batas wilayah Indonesia menjadi lebih rumit karena luasnya perairan terbuka

Pernyataan yang tepat ditunjukkan oleh nomor....

- A. 1, 2, 3
- B. 1, 3
- C. 2, 4
- D. 4

42. Kondisi yang diakibatkan oleh Revolusi Industri di Inggris pada mekanisasi cara kerja manusia ditunjukkan pada pernyataan

- 1) banyak pusat perdagangan baru
- 2) model pertanian subsisten tidak lagi populer
- 3) tenaga manusia diganti dengan tenaga robot
- 4) timbul spesialisasi bidang pekerjaan

Pernyataan yang tepat ditunjukkan oleh nomor....

- A. 1, 2, 3
- B. 1, 3
- C. 2, 4
- D. 4

43. Kebutuhan akan lahan pertanian dan perkebunan yang semakin luas pada akhir abad ke-19 memberikan manfaat ekonomi bagi pemerintah kolonial berupa:

- 1) penghasilan pemerintah dari pajak sewa tanah rakyat
- 2) penambahan modal investasi industri dari pihak swasta
- 3) penghasilan dari pajak hasil pertanian dan perkebunan
- 4) penambahan tenaga kerja pertanian dan perkebunan

Pernyataan yang tepat ditunjukkan oleh nomor...

- A. 1, 2, 3
- B. 1, 3
- C. 2, 4
- D. 4

44. Perhatikan pernyataan berikut ini!

- 1) gagasan tentang kemandirian bangsa
- 2) kemampuan diplomasi
- 3) tumbuhnya kesadaran kelas sosial
- 4) kekuatan ekonomi dalam perjuangan politik

Tokoh Tan Malaka memiliki sumbangan besar dalam pergerakan kebangkitan nasional Indonesia ditunjukkan dengan pernyataan nomor

- A. 1, 2, 3
- B. 1, 3
- C. 2, 4
- D. 4

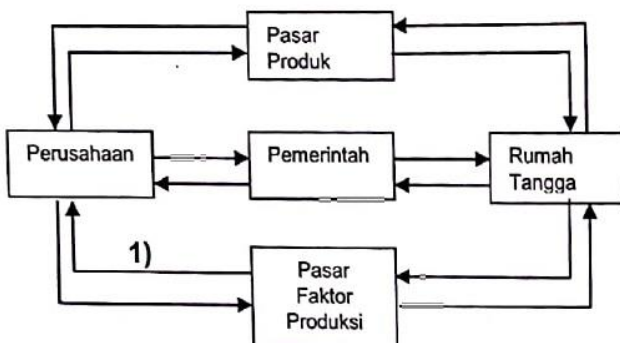
45. Langkah pertama Jepang ketika menduduki Indonesia adalah menutup semua lembaga pelayanan umum warisan Belanda misalnya sekolah, kantor pemerintah, dan rumah sakit. Mengapa Jepang melakukan penutupan itu?

- 1) untuk menghapuskan warisan Belanda
- 2) karena menjadi tempat persembunyian para pejuang Indonesia
- 3) untuk memastikan kontrol Jepang terhadap rakyat Indonesia
- 4) karena menunggu kedatangan guru, pegawai dan dokter/perawat dari Jepang

Jawaban yang benar ditunjukkan oleh nomor ...

- A. 1, 2, 3
- B. 1, 3
- C. 2, 4
- D. 4

46. Perhatikan Gambar Model Interaksi para pelaku ekonomi di bawah ini.



Model interaksi pelaku ekonomi sektor perusahaan dengan sektor rumah tangga melalui pasar produk seperti ditunjukkan oleh anak panah nomor 1 adalah

- rumah tangga memperoleh produk dari perusahaan
- rumah tangga memperoleh pendapatan dari perusahaan
- rumah tangga menerima faktor produksi dari pemerintah
- rumah tangga membayar produk yang dibeli dari perusahaan

47. Diketahui data produktivitas negara Cina dan Jepang dalam menghasilkan komoditas sebagai berikut.

Negara	Tekstil (meter/jam kerja)	Komputer (buah/jam kerja)
Jepang	2	5
Cina	4	7

Dalam kasus di atas, menurut teori keunggulan komparatif, arus perdagangan kedua negara tersebut adalah

- Cina mengekspor komputer ke Jepang dan Jepang mengekspor tekstil ke Cina
- Cina mengekspor tekstil ke Jepang dan Jepang mengekspor komputer ke Cina
- Jepang mengimpor tekstil dari Cina dan mengekspor komputer ke Cina
- Cina mengimpor tekstil dari Jepang dan mengekspor komputer ke Jepang

48. Dilihat dari keikutsertaan dalam perusahaan, terdapat tiga jenis perseroan komanditer, yaitu :

- Perseroan komanditer murni, dimana hanya terdapat seorang sekutu aktif.
- Perseroan komanditer campuran, di mana terdapat beberapa sekutu aktif.
- Kekuasaan tertinggi berada di tangan Rapat Umum Pemegang Saham (RUPS).
- perseroan komanditer dengan perusahaan yang modalnya berasal dari saham - saham.

Pernyataan yang benar di bawah ini yang mencerminkan jenis perseroan komanditer dilihat dari keikutsertaannya adalah nomor ...

- 1, 2, 3
- 1, 2, 4
- 2, 3, 4
- 3, 4, 1

49. Jika harga mangga sebesar Rp500/buah, sementara fungsi permintaannya adalah $P = 1.300 - 2Q$. Maka jumlah mangga yang diminta adalah

- 300
- 400
- 500
- 600

50. Pasar juga dapat dijadikan sumber pendapatan pemerintah untuk membiayai pengerjaan jembatan melalui pajak dan retribusi. Hal ini merupakan peran pasar bagi

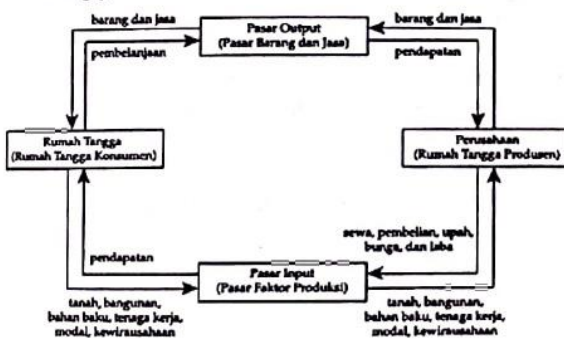
- Konsumen
- Produsen
- Pembangunan
- Sumberdaya manusia

51. Benda " *illith* " merupakan alat pemuas kebutuhan yang dikelompokkan berdasarkan

- tujuan penggunaan
- kelangkaan
- bentuk pemakaian
- kesiapan penggunaan

52. Badan usaha milik importir memiliki hubungan yang kuat dengan luar negeri dengan tujuan untuk meningkatkan impor barang/jasa. Aktivitas tersebut mampu mendorong konsumsi masyarakat. Berdasarkan ilustrasi tersebut salah satu peran badan usaha yaitu:
- Menurunkan jumlah pengangguran terdidik
 - Meningkatkan pendapatan masyarakat
 - Meningkatkan pola konsumsi masyarakat
 - Meningkatkan jumlah barang dan jasa di pasar

53. Perhatikan skema interaksi antara produsen rumah tangga dan rumah tangga konsumen dalam hal berikut ini.



Sesuai dengan skema di atas pendapatan masyarakat saat ini sebagai penerimaan pembayaran untuk faktor produksi adalah....

- Pendapatan
- Pembelanjaan
- Sewa, pembelian, upah, bunga, laba
- Tanah, bangunan, bahan baku, tenaga kerja, modal, kewirausahaan

54. Pasar Induk Kramat Jati memiliki kondisi permintaan dan penawaran beberapa barang sebagai berikut:

- Karena hujan terus menerus banyak petani cabai gagal panen sehingga penawarannya merosot tajam, padahal permintaan akan cabai mengalami kenaikan 5 %.
- Karena panen raya maka penawaran kentang meningkat tajam, padahal permintaan kentang cukup stabil.
- Menjelang ramadhan permintaan terigu meningkat dua kali lipat, tetapi pengadaan terigu sangat terbatas.

- Setelah lebaran haji permintaan terhadap hewan kambing dan sapi menurun tajam, sedangkan pedagang mendatangkan hewan kambing dan sapi dari daerah secara besar-besaran.

Berdasarkan kondisi di atas maka kesimpulan yang tepat adalah.....

- Terjadi kenaikan harga cabai yang luar biasa tetapi harga hewan kambing dan sapi menurun kembali.
- Harga terigu naik dua kali lipat menjelang bulan Ramadhan karena banyak orang-orang yang membutuhkannya.
- Terjadi kenaikan harga kentang tetapi harga terigu merosot tajam sebab kentang lebih penting.
- Harga kentang dan hewan kambing serta sapi sama-sama menurun karena permintaannya sudah berkurang.

55. Kualitas hidup yang lebih baik memang mensyaratkan adanya pendapatan yang lebih tinggi, namun yang dibutuhkan bukan hanya itu. Hal penting yang harus diperjuangkan adalah

- Pendidikan, Kesehatan dan Teknologi
- Pendidikan, Kesehatan dan Lingkungan
- Kesehatan, Kecerdasan, dan Keterampilan
- Pendidikan, Kekeluargaan dan Kemasyarakatan

56. Peristiwa berikut ini menggambarkan kegiatan konsumsi yang didasarkan pada prinsip ekonomi **kecuali**

- Karina memiliki banyak baju namun masing-masing memiliki fungsi yang berbeda misalnya baju untuk sekolah, olah raga, pesta, santai, dan tidur
- Dalam empat kamar di rumah Bu Ina disediakan sebuah televisi berwarna agar semua anggota keluarga merasa nyaman saat menikmati acara televisi
- Andi membeli *handphone* berharga relatif mahal agar bisa terkoneksi internet dan digunakan untuk *video call* dengan relasi bisnis yang ada di dalam dan luar negeri
- Pak Budi memiliki 4 sepeda motor, masing-masing untuk dirinya sendiri, istri, dan dua anaknya yang setiap hari digunakan untuk ke kantor dan sekolah dengan arah yang berbeda

57. Sebuah perusahaan distributor menjual barang kebutuhan rumah tangga baik kepada konsumen atau kepada pedagang lain yang akan menjual kembali barang yang dibelinya tersebut. Dengan demikian perusahaan distributor ini berkedudukan sebagai
- retailer
 - wholeseller
 - perantara khusus
 - retailer sekaligus wholeseller

58. Perhatikan tabel yang memuat informasi mengenai bidang produksi, guna yang tercipta, dan upaya perluasan produksi dari sebuah kegiatan produksi berikut ini!

A Bidang Produksi	B Guna yang Tercipta	C Upaya Perluasan Produksi
1. Ekstraktif 2. Perdagangan 3. Jasa	1. <i>Service Utility / Guna Pelayanan</i> 2. <i>Ownership Utility / Guna Milik</i> 3. <i>Basic Utility / Guna Dasar</i>	1. Diversifikasi Produk 2. Intensifikasi 3. Ekstensifikasi

Pelanggan usaha Salon Kecantikan "Gayatri" meningkat pesat. Pemilik salon berinisiatif memperpanjang jam buka salon dari semula pukul 08.00 – 16.00 menjadi pukul 08.00 – 20.00 agar bisa melayani pelanggan lebih banyak.

Berdasarkan tabel di atas, kombinasi bidang produksi, guna yang tercipta, dan upaya perluasan produksi usaha Salon Kecantikan "Gayatri" ditunjukkan oleh nomor

- A1, B1, dan C3
 - A2, B2, dan C2
 - A3, B1, dan C2
 - A3, B3, dan C1
59. Perhatikan pernyataan berikut ini!
- Kesadaran yang tinggi membuat masyarakat membayar pajak tepat waktu
 - Siswa SMK mendapat kesempatan bekerja di "PT Sentosa" selama liburan sekolah
 - Toko barang-barang elektronika "Benderang" melayani pembayaran secara kredit

- "PT Kharisma Indojoya" membayar sewa lahan untuk bangunan pabrik selama 20 tahun
- Masyarakat semakin menggemari berbelanja barang dan jasa secara *on line*
- Jalan tol yang dibangun pemerintah mampu memperlancar kegiatan ekonomi.

Diantara pernyataan di atas yang menggambarkan terjadinya interaksi antara rumah tangga konsumen dengan rumah tangga produsen melalui pasar input adalah nomor

- 1 dan 2
 - 2 dan 4
 - 3 dan 4
 - 5 dan 6
60. Pasar sepeda motor di Indonesia merupakan pasar yang berbentuk oligopoli karena
- di mata konsumen, sepeda motor merupakan barang-barang yang sifatnya homogen
 - pangsa pasar terbesar dikuasai oleh 4 merek saja yaitu Honda, Yamaha, Suzuki, dan Kawasaki
 - produsen sepeda motor di Indonesia bersama-sama menentukan harga sepeda motor agar harganya tidak berbeda jauh
 - produsen sepeda motor dengan berbagai merek sangat mudah untuk menjual sepeda motor hasil produksinya di Indonesia